

ATIVIDADES ROTINA – 9 À 13 DE NOVEMBRO (2º ANOS)

SEGUNDA-FEIRA (09/11/20)

PORTUGUÊS – Leia o texto jornalístico “Animais desaparecidos” (atividade de leitura)

JORNAL O CURIOSINHO – O JORNAL PARA CRIANÇAS Ano I, Edição I, São Paulo

Ciência Redação, CEIAI 23/10/2019 / 13h44

ANIMAIS DESAPARECIDOS



<https://pixabay.com/pt/photos/lobo-guar%C3%A1-pastagens-savannah-4423594/>

OS ANIMAIS ESTÃO DESAPARECENDO?

ATÉ O ANO DE 2014, CERCA DE 60% DE ANIMAIS E PLANTAS DE DIFERENTES ESPÉCIES DESAPARECERAM DO PLANETA, SEGUNDO INFORMAÇÕES DO RELATÓRIO “PLANETA VIVO 2018”. NOS PAÍSES COMO O BRASIL, ONDE O CLIMA É TROPICAL, ESSE NÚMERO SOBE PARA 89%. O PEIXE BOI MARINHO, POR EXEMPLO, É UM DOS ANIMAIS MAIS AMEAÇADOS DE EXTINÇÃO NOS LITORAIS DO NORDESTE.

NA MATA ATLÂNTICA, 785 ESPÉCIES DE ANIMAIS ESTÃO CORRENDO PERIGO, POIS A ÁREA ESTÁ SENDO DESMATADA E OS ANIMAIS FICAM SEM ABRIGO E SEM ALIMENTOS. OUTROS FATORES QUE OFERECEM RISCOS À VIDA DAS ESPÉCIES SÃO AS QUEIMADAS E AS POLUIÇÕES.

UM CASO RECENTE FOI O VAZAMENTO DE PETRÓLEO NA REGIÃO LITORÂNEA DO NORDESTE DO PAÍS. O PETRÓLEO AFETA A VIDA MARINHA, COMO POR EXEMPLO AS ALGAS, QUE SÃO MUITO IMPORTANTES PARA A CADEIA ALIMENTAR, PREJUDICANDO A DIGESTÃO DOS ANIMAIS, ENTRE ELAS O PEIXE BOI MARINHO, AS TARTARUGAS E OS GOLFINHOS.

MUITOS ANIMAIS CORREM O RISCO DE DESAPARECER. SERIA COMO SE NUNCA ESTIVESSEM HABITADO O PLANETA TERRA!

OS ANIMAIS QUE PODERIAM DESAPARECER DO PLANETA TERRA SÃO: ARARA AZUL, LOBO GUARÁ, RINOCERONTE-BRANCO-DO-NORTE, TIGRE CHINÊS, TATU BOLA, ENTRE OUTROS.

E VOCÊ O QUE PODE FAZER PARA AJUDAR?

Texto adaptado Equipe CEIAI

ATIVIDADE 15.2

1 JULIANA CONTOU A SEUS AMIGOS QUE SUA DIVERSÃO PREDILETA É A LEITURA. ELA COLECIONA LIVROS DE HISTÓRIAS E, ATÉ O DIA DE SEU ANIVERSÁRIO, TINHA 42 LIVROS. NESSE DIA, ELA GANHOU OUTROS 10. QUANTOS LIVROS JULIANA PASSOU A TER?

RESOLVA DO SEU JEITO AQUI

$$\begin{array}{r|l} D & U \\ + & 42 \\ 1 & 0 \\ \hline 5 & 2 \end{array}$$

PASSOU A TER 52 LIVROS.

2 VOCÊ ACHA FÁCIL ADICIONAR 10 A UM NÚMERO? SIM
ENTÃO DÊ O RESULTADO DE CADA ADIÇÃO:

10 + 10	11 + 10	12 + 10	13 + 10	14 + 10
20	21	22	23	24
15 + 10	16 + 10	17 + 10	18 + 10	19 + 10
25	26	27	28	29

TERÇA-FEIRA (10/11/20)

PORTUGUÊS – Responda as questões referentes ao texto jornalístico “Animais desaparecidos”.

A – QUAL O TÍTULO DO TEXTO?

R: O TÍTULO DO TEXTO É “ANIMAIS DESAPARECIDOS”.

B – QUAL O ASSUNTO PRINCIPAL DO TEXTO?

R: O ASSUNTO PRINCIPAL DO TEXTO É SOBRE O DESAPARECIMENTO DOS ANIMAIS.

C – DE ACORDO COM O TEXTO, NA MATA ATLÂNTICA 785 ESPÉCIES DE ANIMAIS ESTÃO CORRENDO PERIGO. POR QUÊ?

R: NA MATA ATLÂNTICA, 785 ESPÉCIES DE ANIMAIS ESTÃO CORRENDO PERIGO, POIS A ÁREA ESTÁ SENDO DESAMTADA E OS ANIMAIS FICAM SEM ABRIGO E SEM ALIMENTOS.

D – O VAZAMENTO DE PETRÓLEO QUE OCORREU RECENTEMENTE NA REGIÃO NORDESTE DO NOSSO PAÍS ESTÁ PREJUDICANDO A VIDA MARINHA. QUAIS ANIMAIS ESTÃO SOFRENDO COM ESTA AÇÃO?

R: OS ANIMAIS QUE ESTÃO SOFRENDO COM ESTA AÇÃO SÃO O PEIXE BOI MARINHO, AS TARTARUGAS E OS GOLFINHOS.

ATIVIDADE 15.3

2 PARA O AVÔ DE JULIANA, O LAZER PREFERIDO É CUIDAR DE ÁRVORES NO SÍTIO. ELE AJUDA A CUIDAR DO POMAR, QUE NÃO PARA DE CRESCER.



Fotos: IMESP

A. NO FINAL DO MÊS DE ABRIL, HAVIA 23 PÉS DE ÁRVORES FRUTÍFERAS E NO MÊS DE MAIO FORAM PLANTADOS 9 PÉS. QUANTOS PÉS DE ÁRVORES FRUTÍFERAS PASSOU A TER O POMAR?

$$\begin{array}{r} \text{DIU} \\ + 23 \\ \hline 32 \end{array}$$

32

PASSOU A TER 32 ÁR-
VORES.

B. NO MÊS DE MAIO HAVIA 32 ÁRVORES FRUTÍFERAS NO POMAR. NO FINAL DO MÊS DE JUNHO, JULIANA E ALGUNS COLEGAS CONTARAM 40 PÉS DE ÁRVORES FRUTÍFERAS. O QUE ACONTECEU DURANTE O MÊS DE JUNHO?

$$\begin{array}{r} \text{DIU} \\ - 34 \\ \hline 08 \end{array}$$

08

NASCERAM 8 ÁRVORES.

QUARTA-FEIRA (11/11/20)

ATIVIDADE 15.4

1 JULIANA PRECISAVA ENCONTRAR O RESULTADO DE $25 + 9$. JULIANA FEZ $25 + 10$, QUE É IGUAL A 35 E TIROU 1 DESSE VALOR, ENCONTRANDO 34.


A. VOCÊ CONCORDA COM O QUE ELA FEZ?

SIM.


B. USE A MANEIRA DE JULIANA PARA ENCONTRAR O RESULTADO DE CADA ADIÇÃO:

$12 + 9$	$21 + 9$	$32 + 9$	$44 + 9$	$56 + 9$
$12 + 10 = 22$	$21 + 10 = 31$	$32 + 10 = 42$	$44 + 10 = 54$	$56 + 10 = 66$
$22 - 1 = 21$	$31 - 1 = 30$	$42 - 1 = 41$	$54 - 1 = 53$	$66 - 1 = 65$
$65 + 9$	$76 + 9$	$87 + 9$	$49 + 9$	$33 + 9$
$65 + 10 = 75$	$76 + 10 = 86$	$87 + 10 = 97$	$49 + 10 = 59$	$33 + 10 = 43$
$75 - 1 = 74$	$86 - 1 = 85$	$97 - 1 = 96$	$59 - 1 = 58$	$43 - 1 = 42$
$73 + 9$	$16 + 9$	$37 + 9$	$16 + 9$	$22 + 9$
$73 + 10 = 83$	$16 + 10 = 26$	$37 + 10 = 47$	$16 + 10 = 26$	$22 + 10 = 32$
$83 - 1 = 82$	$26 - 1 = 25$	$47 - 1 = 46$	$26 - 1 = 25$	$32 - 1 = 31$


COMPLETE AS PALAVRAS COM A SÍLABA QUE FALTA.




_____ GÃO




_____ TEIRA




_____ VO



_____ VATA



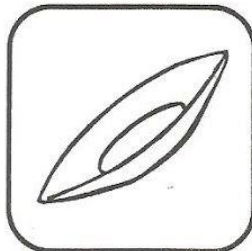
ES _____ LA



_____ LO



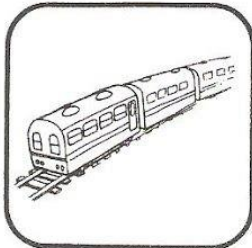
_____ FESSOR



_____ TO



TI _____





_____ FÉU



_____ XA

QUINTA-FEIRA (12/11/20)

EMAI (LIVRO CAPA AZUL – VOLUME 1) MATEMÁTICA – Sequência 15 – Diversões e Leitura - ATIVIDADE 15.5 – página 94.

UM
CONHECIDO.

RESOLVA OS PROBLEMAS:

A. MARCOS INICIOU O JOGO COM 26 FIGURINHAS E TERMINOU COM 40 FIGURINHAS. O QUE ACONTECEU DURANTE O JOGO?

$$\begin{array}{r} D|U \\ -34|10 \\ \hline 2|6 \\ \hline 14 \end{array}$$

MARCOS GANHOU 14 FIGURINHAS
A MAIS.

B. PEDRO COMEÇOU O JOGO COM 32 FIGURINHAS E TERMINOU COM 16. O QUE ACONTECEU DURANTE O JOGO?

$$\begin{array}{r} D|U \\ -23|12 \\ \hline 1|6 \\ \hline 16 \end{array}$$

PEDRO PERDEU 16 FIGURINHAS.

C. OTÁVIO TINHA ALGUMAS FIGURINHAS, GANHOU 13 E TERMINOU COM 2. QUANTAS FIGURINHAS ELE TINHA NO INÍCIO DO JOGO?

$$\begin{array}{r} D|U \\ -2|8 \\ \hline 1|3 \\ \hline 15 \end{array}$$

ELE TINHA 15 FIGURINHAS.

PORTUGUÊS – Escolha três palavras da atividade de ontem e forme frases criativas em seu caderno.

RESPOSTA PESSOAL – ENVIAR AS FRASES PARA A PROFESSORA.

SEXTA-FEIRA (13/11/20)

Atividade de entretenimento – Conheça alguns animais que estão em extinção no Brasil.

<https://www.youtube.com/watch?v=0QNYps6k5Go>